

TÜRKÇE

Mantık Soruları ve Çözümleri



www.yeninesilturkce.com

Soru 1:

Ali, Can, Berk adlarında üç çocuk para biriktirdikten sonra birer oyuncak araba almak için oyuncakçıya gider. Oyuncaklar ve çocuklarla ilgili aşağıda bazı bilgiler verilmiştir.

- *Her çocuk farklı miktarlarda para biriktirmiştir.
- *Çocuklar istedikleri oyuncak arabayı almak için bütün paralarını harcamıştır.
- *Oyuncakçıda sarı, siyah, kırmızı renklerinde sadece üç oyuncak araba vardır.
- *Her oyuncak arabanın fiyatı da farklıdır.
- *Can, istediği oyuncak arabaya gücü yetmeyince siyah olan arabayı almıştır.
- *Berk'in biriktirdiği para Ali'nin biriktirdiğinden daha az, Can'ın biriktirdiğinden daha çoktur.

Bu bilgilere göre aşağıdakilerden hangisi kesinlikle yanlıştır?

- A. En pahalı araba kırmızı olandır.
- B. Kırmızı oyuncak araba Can'ın istediği oyuncak arabadır.
- C. Ali sarı oyuncak arabayı almıştır.
- D. Can fiyat olarak ikinci sıradaki aracı almıştır.



Soru 2:

Hafta sonu AVM'de buluşan Cansu, Derya, İrem, Tarık ve Yiğit adlarında beş arkadaş bir şeyler yemek için restoranların olduğu kata çıkarlar. Beş arkadaş ve siparişleriyle ilgili aşağıdaki bilgiler verilmiştir:

- *Beş arkadaş; pizza, hamburger ve tost ürünlerinden sipariş etmeye karar verirler.
- *Aynı yemekten en az bir en fazla iki sipariş verilmiştir.
- *Tarık, hamburger siparişi vermiştir.
- *Cansu ve İrem birbirlerinden farklı yiyecekler sipariş etmiştir.
- *Yiğit'in sipariş ettiği yemeği kimse sipariş etmemiştir.
- *İrem ve Derya aynı yemeği sipariş etmiştir.

Bu bilgilere göre aşağıdaki değerlendirmelerden hangisi kesinlikle doğrudur?

- A. İrem pizza yemiştir.
- B. Yiğit tost yemiştir.
- C. Cansu hamburger yemiştir.
- D. Derya tost yemiştir.



Soru 3:

Salgından dolayı seyreltilmiş bir sınıf düzeni içine giren bir kolej her sınıfa altı öğrenci düşecek şekilde bir planlama yapmıştır. Her sınıfta sıra düzeni tekli olarak planlanmış yanyana üç sıra yerleştirilerek iki bölümden oluşturulmuştur.

8/A sınıfına bir önceki yılın 7/A sınıfından Selin, Ezgi, Mert, Eren, Buket ve Cenk yerleştirilmiştir.

Öğretmen, sınıfa girdiğinde öğrencilerin sıra konusunda birbirleriyle tartıştığını görür. Ve her öğrencinin istediği sırayı ve nedenleriyle sorar. Öğrencilerin istekleri şu şekilde sıralanmıştır.

*Selin: Öğretmenim, erkek arkadaşlarım ders esnasında sürekli beni rahatsız ettiğinden sağımda, solumda, arkamda veya önümdede oturmalarını istemiyorum.

*Cenk: Derste yazı yazarken biraz yavaşım o yüzden geri kalabiliyorum. Eren yan tarafımda oturursa geri kaldığımdan ondan bakabilirim, öğretmenim.

*Mert: Kız arkadaşların saçlarından çoğu zaman tahtayı göremiyorum. Bu yüzden önde oturmak istiyorum.

*Ezgi: Öğretmenim, uzağı görmeye sorun yaşayabiliyorum, doktor henüz gözlük takmama lüzum yok dese de ben de ön sırada oturmak istiyorum.

*Eren: İstediyiniz yerde oturabilirim, öğretmenim. Sorun yok.

*Buket: Benim için de fark etmez öğretmenim, her yerde oturabilirim.

Öğretmen, öğrencilerden bu bilgileri aldıktan sonra sınıf oturma planını hazırlayıp panoya asmıştır.

Aşağıdakilerden hangisi panoya asılan bir oturma planı olabilir?

A.



B.



C.



D.






Soru 4:

Yaz tatili başladığında Arda, Ceren, Berkay, Sevda, Yusuf ve Gamze adlarında altı arkadaş yaz okulunda sportif faaliyetlere katılmaya karar verdiler. Yaz okulunda futbol, voleybol ve basketbol branşlarında eğitim verilmektedir.

Bununla ilgili olarak aşağıdaki bilgiler bilinmektedir:

- *Her branşa iki kişi başvuruda bulunmuştur.
- *Kızlardan iki kişi aynı branşa başvurmuştur.
- *Arda'nın başvurduğu branşta erkek yoktur.
- *Yusuf, futbol dışında bir branşa başvurmuştur.
- *Gamze, Ceren'den farklı bir branşa başvurmuştur.
- *Sevda voleybol dışında bir branşa başvurmuştur.
- *Berkay, basketbola başvurmuştur.

Yukarıdaki bilgilere bakıldığında aşağıdaki tabloda verilen başvurulardan hangisi doğrudur?

	 Futbol	 Voleybol	 Basketbol
A	Gamze Ceren	Arda Sevda	Berkay Yusuf
B	Arda Ceren	Gamze Sevda	Berkay Ceren
C	Gamze Sevda	Arda Ceren	Berkay Yusuf
D	Ceren Sevda	Gamze Yusuf	Berkay Arda

Soru 5:

Sıla, Deniz, Ege, Toprak ve Emre adlarında beş arkadaş kitapçıya giderek biyografi, tarih, deneme ve şiir türlerinden kitaplar almışlardır.

Alınan kitaplar ve alan kişilerle ilgili olara şunlar bilinmektedir:

- * Bu türlerden en az bir, en fazla iki kitap alınmıştır.
- * Ege ve Sıla aynı türden birer adet olmak üzere toplamda ikeşer kitap almışlardır.
- * Emre ve Toprak farklı türlerden birer adet kitap almıştır.
- * Deniz, şiir türünden kitap alan tek kişidir.
- * Sıla'nın aldığı kitap türlerinden biri Emre'ninki ile aynıdır.
- * Deneme türünden kitap alanlardan biri de Emre'dir.

Yukarıdaki bilgilere bakarak aşağıdakilerden hangisine kesin olarak ulaşabiliriz?

- A. Toprak, tarih türünden kitap almıştır.
- B. Sıla, biyografi ve deneme türlerinden kitap almıştır.
- C. Ege, biyografi ve tarih türlerinden kitap almıştır.
- D. Toprak, biyografi türünden kitap almıştır.



Soru 6:

LGS ile ilgili olarak yapılan bir seminere Nazlı, Gül, Can, Serhat ,Zuhal ve Hamza adlı kişiler; sırasıyla birden yediye kadar numaralanmış yan yana dizili koltuklara oturmuşlardır. Kişilerin oturdukları koltukların numaralarına ilişkin bazı bilgiler şu şekildedir:

- *Ortadaki koltuk boş bırakılmıştır.
- *Üç numaralı koltuğa Nazlı oturmuştur.
- *Can ve Serhat arasında Gül oturmuştur.

Bu bilgilere bakarak aşağıdaki seçeneklerin hangisi kesin olarak doğrudur?

- A. Gül, 6 numaralı koltukta oturmuştur.
- B. Serhat 7 numaralı koltukta oturmuştur
- C. Zuhal 2 numaralı koltukta oturmuştur.
- D. Hamza 1 numaralı koltukta oturmuştur.

Soru 7:

Hamza tek numaralı bir koltuğa; Can, Nazlı'ya en yakın koltuğa oturursa koltuk oturma sırası nasıl olur?

	1.Koltuk	2. Koltuk	3. Koltuk	4. Koltuk	5. Koltuk	6. Koltuk	7. Koltuk
A	Hamza	Zuhal	Nazlı	-	Can	Serhat	Gül
B	Hamza	Zuhal	Nazlı	-	Serhat	Can	Gül
C	Hamza	Nazlı	Zuhal	-	Can	Gül	Serhat
D	Hamza	Zuhal	Nazlı	-	Can	Gül	Serhat

Soru 8:

Bir otoparda 1'den 8'e kadar olan peronlardan İzmir, Trabzon, Kars, Adıyaman, Mersin ve Konya'ya aynı saatte hareket edecek otobüsler bulunmaktadır. Bu otobüsler ve peronlarla ilgili olarak aşağıda bazı bilgiler verilmiştir:

- *Adıyaman otobüsü 2 numaralı peronda bulunup kendinden sonraki peronda otobüs bulunmamaktadır.
- *Mersin ve Konya otobüsleri yan yana peronlarda sıralanmıştır.
- *Kars otobüsünün bulunduğu peron tek hanelidir; ayrıca sol tarafında ve sağ tarafında en az üç peron bulunmaktadır.
- *Trabzon otobüsünün bulunduğu perondan sonra peron bulunmamaktadır.

Bu bilgilere bakarak aşağıdakilerin hangisinde kesin yanlış bir bilgi verilmiştir?

- A. Kars otobüsü 5 numaralı perondan hareket edecektir.
- B. İzmir otobüsü 7 numaralı perondan hareket edecektir.
- C. İzmir otobüsü 1 numaralı perondan hareket edecektir.
- D. Trabzon otobüsü 8 numaralı perondan hareket edecektir.



Soru 9:

Salih, Ahmet, Berkay ve Mehmet adlı dört arkadaş aynı mahallede ev satın almak için emlakçıya gitmişlerdir. Emlakçı müşterileri için aynı mahallede bulunan ikişerli karşılıklı dört evi onlara göstermiştir.

Satın alacak kişiler ve evlerle ilgili olarak bazı bilgiler verilmiştir.

- *Her evin fiyatı ve özellikleri farklıdır.
- *Müşterilerin ellerindeki para miktarı ve evde aradığı kriterler birbirinden farklıdır.
- *Her müşteri ev alırken bütçelerinin tamamını kullanmıştır.
- *En pahalı ev 4 numaralı en ucuz ev 1 numaralı evlerdir.
- *Metrekare olarak en büyük ev 3 numaralı en küçük ev 2 numaralı evlerdir.
- *Salih'in ev için ayırdığı bütçe Berkay'inkinden az Ahmet'inkinden çoktur.
- *Dört arkadaş içerisinde en az parası bulunan Ahmet'tir. Ve bütçesine uygun olan evi satın almıştır.
- *Ahmet'in evinin çaprazında Berkay, karşısında da Mehmet vardır.

Bu bilgilere bakarak aşağıdakilerden hangisinde bir yanlış bilgi vardır?

- A. Ev için en çok para harcayan Mehmet'tir.
- B. Salih 3 numaralı evi almıştır.
- C. Berkay metrekare olarak en büyük evi satın almıştır.
- D. Ahmet'le Salih yan yana bulunan evleri almışlardır.

Soru 10:

Aşağıdaki tabloda bazı vitaminler ve bu vitaminlerin bulunduğu besinler yer almaktadır.

A vitamini	B vitamini	C vitamini	D vitamini	E vitamini	K vitamini
yumurta	balık	portakal	muz	ceviz	lahana
havuç	limon	brokoli	kaymak	findık	ıspanak
domates	nohut	bezelye	süt	patates	kabak
malta eriği	fıstık	greyfut	uskumru	ton balığı	domates

Doktor tavsiyesi üzerine gün içerisinde A,B,C,D,E ve K vitaminlerin hepsinden en az bir besin almak isteyen bir kişi, altı öğün içerisinde bunları yemek listesine koymak istemiştir. Hangi seçenek bu listeye uymaktadır?

	SABAHA	ARA ÖĞÜN	ÖĞLE	ARA ÖĞÜN	AKŞAM	ARA ÖĞÜN
A	yumurta	fıstık	balık	muz	ton balığı	havuç
B	süt	kaymak	domates	balık	greyfut	ceviz
C	portakal	fıstık	uskumru	malta eriği	kabak	findık
D	patates	süt	nohut	fıstık	balık	lahana

