


TÜRKÇE

Yorum, Grafik, Görsel, Tablo Okuma, Akıl Yürütme Soru ve Çözüm Teknikleri





☺☺☺

M.S. 54-68 yılları arasında Roma İmparatorluğu'nu yöneten Neron'un da dondurmaya benzeyen bir yiyecek tükettiği yazılıyor.

☺☺☺☺

Roma İmparatorluğunun çöküşünden sonra Ortaçağ Avrupası'nda bu buzlu yiyecekler kaybolmuş. Avrupada tekrar ortaya çıkması 1292 yılında Marco Polo'nun Çin seyahatinden donmuş bal ve süttten yapılan tatlıları Venedik ve Kuzey İtalya'ya getirmesi ile olmuş.

☺

Bazı kaynaklar dondurmanın ilk kez günümüzden 3000 yıl önce Antik Çin'de ortaya çıktığını yazıyor. Dağlardan toplanan kar ile meyve, bal ve şarabı karıştırarak Çinliler ilk dondurmayı yapmışlar.

☺☺

Kimi kaynaklara göre M.Ö. 500'lü yıllarda hüküm süren Pers İmparatorluğu döneminde de benzer bir tatlı vardı. Persler soğuk hava depoları yapımında uzmanlaşmışlardı. Dağların yüksek yamaçlarında kazılan çukurlarda toplanan karların, kaymak, bal, şurup, şerbet çeşitli baharatlarla harmanlanması ve karışımın tekrar karlarla örtülüp bekletilmesiyle dondurma elde ediyorlardı.



Soru 1:

Yukarıdaki bilgilere göre aşağıdakilerden hangisine ulaşamaz?

- A. İlk dondurmaya benzer yiyeceğin Antik Çin'de ortaya çıktığı eski kaynaklarda yazılmaktadır.
- B. Bazı kaynaklarda Pers'lerin de benzer bir tatlı türünü yaptıkları belirtilmektedir.
- C. Romalıların çeşitli meyveleri soğuk hava depolarında muhafaza ettiği kimi kaynaklarda mevcuttur.
- D. Dondurmanın Marco Polo'nun Çin'den getirmesiyle Avrupada ortaya çıkmıştır.

En çok...

Dünyada en çok kitap okunan 10 ülke arasında 6 Asya, 4 Avrupa ülkesi yer alıyor. Müslümanların kutsal kitabı Kuran-ı Kerim en çok okunan kitapların başında geliyor.



Haftada kişi başına ortalama kitap okumaya en uzun zaman harcayan ülkeler:

Dünyada En Çok Okunan İlk 10 Kitap

1-Kuran-ı Kerim

2-İncil

3- Başkan Mao'dan Seçme Sözcükler

4-Don Kişot(M.Cervantes)

5-Harry Potter Serisi

6-İki Şehrin Hikayesi

7-Yüzüklerin Efendisi

8-Küçük Prens

9-Alice Harikalar Diyarında

10-Küçük Zenci



1. Hindistan : 10 saat 42 dakika

2- Taylan: 9 saat 24 dakika

3-Çin : 8 saat

4-Filipinler: 7 saat 36 dakika

5-Mısır: 7 saat 30 dakika

6-Çekya: 7 saat 24 dakika

7- İsveç: 7 saat 6 dakika

8- Fransa: 6 saat 54 dakika

9-Macaristan: 6 saat 48 dakika

10-Suudi Arabistan: 6 saat 48 dakika

...

18-Türkiye: 5 saat 54 dakika

Soru 2:

Yukarıdaki bilgilere göre aşağıdakilerden hangisine ulaşılabilir?

- A. Asya ülkeleri en çok dini kitap olan Kuran-ı Kerim'i okumaktadır.
 B. Avrupa ülkeleri içerisinde en az kitap okumaya zaman ayıran ülke Türkiye'dir.
 C. Harry Potter ve Yüzüklerin Efendisi kitapları, filmleri yapıldığı için daha çok okunmaktadır.
 D. En çok kitaba zaman ayıran ilk dört ülke Asya ülkesidir.

Altı arkadaş isimlerini farklı şekiller kullanarak yazmak ister. Her arkadaş, bir şekle bir harf gelecek şekilde toplam altı şekil yapar.

Çocukların çizdiği şekiller şunlardır:



1. Çocuğun İsminin Karşılığı olan şekiller şu şekildedir:



2. Çocuğun İsminin Karşılığı olan şekiller şu şekildedir:



3. Çocuğun İsminin Karşılığı olan şekiller şu şekildedir:



4. Çocuğun İsminin Karşılığı olan şekiller şu şekildedir:



5. Çocuğun İsminin Karşılığı olan şekiller şu şekildedir:



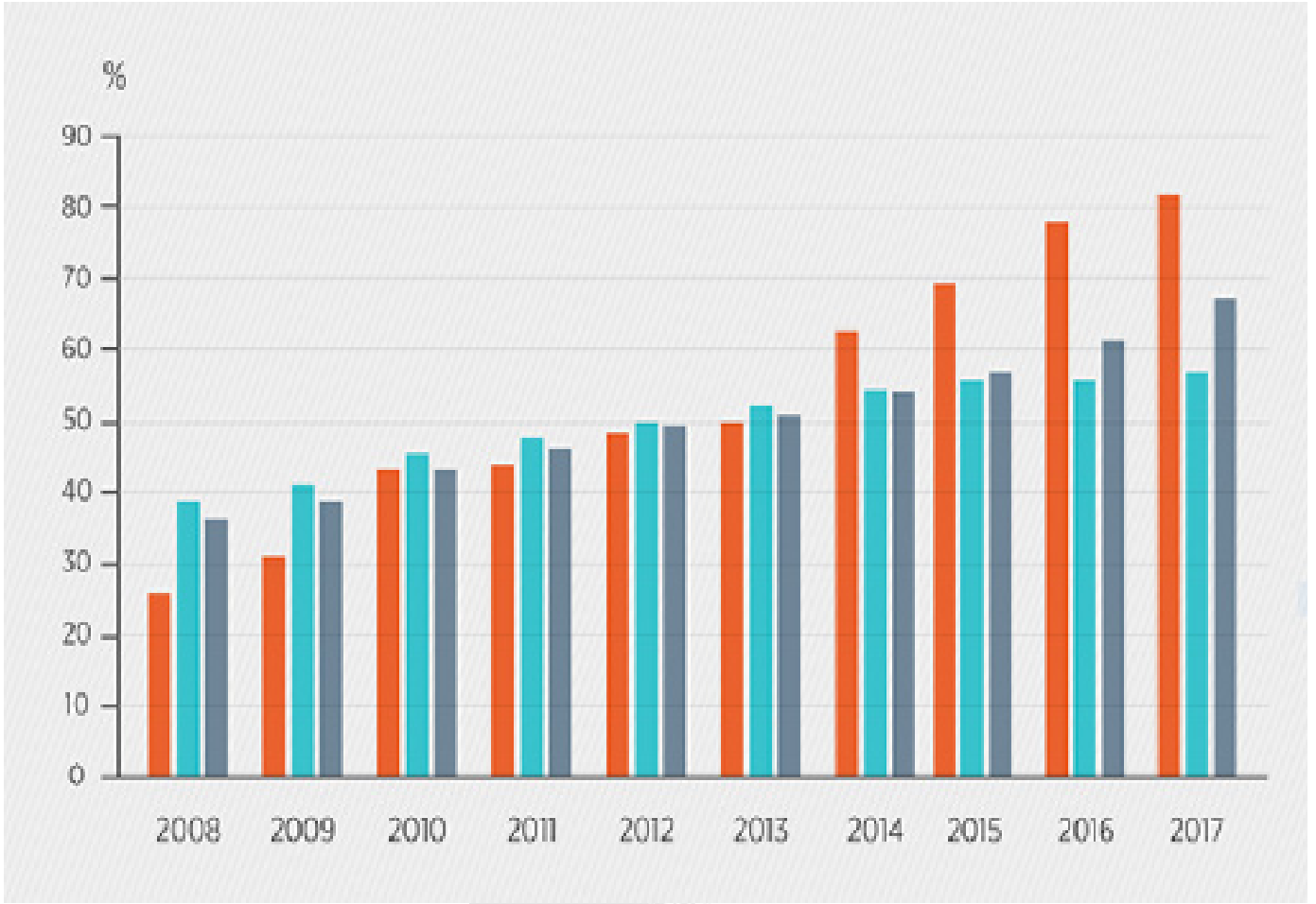
6. Çocuğun İsminin Karşılığı olan şekiller şu şekilde:



Soru 3:

5. Çocuğun isminin “İlyas” olduğunu biliyorsak diğer çocukların adları ne olabilir?

	1. Çocuk Adı	2. Çocuk Adı	3. Çocuk Adı	4. Çocuk Adı	5. Çocuk Adı	6. Çocuk Adı
A	İsa	Ali	Halis	Salih	İlyas	Ayla
B	Asi	İsa	Salih	Hayal	İlyas	Halis
C	Ali	İsa	Hayal	İlyas	İlyas	Salih
D	Ali	İsa	Salih	Halis	İlyas	Hayal



İnternet erişim imkanı olan haneler



16-74 yaş grubu bireylerde bilgisayar kullanımı



16-74 yaş grubu bireylerde internet kullanımı

Soru 4:

Yukarıdaki tablodaki verilere bakarak aşağıdakilerden hangisi söylenemez?

- A. İnternete erişim oranları her yıl artmıştır.
- B. 16-74 yaş grubu bireylerde bilgisayar kullanım oranı son üç yıl benzerlik göstermektedir.
- C. 2014 yılı bireylerde bilgisayar kullanım oranı 2015 yılından çok, 2013 yılından azdır.
- D. Bireylerde internet kullanım oranı her yıl artmıştır.



Cahit ARF

§ Cahit Arf, 1910 yılında Selanik'te doğmuştur. Balkan Savaşları'nın başlamasıyla ailesi İstanbul'a göç etmiştir.

§ Lise yıllarında arkadaşlarının çözemediği soruları çözen Arf'in yeteneği ailesi tarafından fark edilerek Fransa'daki St. Louis Lisesi'ne okumaya gönderilmiştir. 3 yıllık olan liseyi 2 yılda bitirerek ülkesine dönmüştür.

§ Yükseköğrenimi için Avrupa'ya gönderilecek adaylar listesine alınan Cahit Arf, sınavı kazanarak birçok bilim insanını yetiştiren Fransa'daki École Normale Supérieure'e kaydolmuştur.

§ Galatasaray Lisesi'nde matematik öğretmenliği yapmıştır. İstanbul Üniversitesi Fen Fakültesi'nde doçent aday olarak çalışmıştır.

§ 1937 yılında doktorasını yapmak üzere Göttingen Üniversitesi Matematik Bölümü'ne giden Cahit Arf'in bu üniversitede yaptığı doktora çalışması onun dünya çapında tanınmasına yol açmıştır.

§ 1938'in sonunda Türkiye'ye geri dönen Arf; 1943'te profesör, 1955'te ordinaryüs profesör olmuştur. 1962 yılında Robert Koleji'nde matematik dersleri vermeye başlamıştır.

§ 1963'te kurulan TÜBİTAK'ın kuruluş ve gelişmesinde büyük emeği olan Cahit Arf, yıllarca bu kurumun Bilim Kurulu Başkanlığı'nda da bulunmuştur. Matematiğe yapmış olduğu katkılardan dolayı 1974'te de TÜBİTAK Bilim Ödülü'ne layık görülmüştür. 1983-1989 yılları arasında Türk Matematik Derneği başkanlığını yapmıştır

§ Cahit Arf, 1997 yılında kalp rahatsızlığı nedeniyle İstanbul'da vefat etmiştir.

Soru 5:

Cahit Arf ile ilgili yukarıdaki bilgilere bakarak, aşağıdaki sorulardan hangisine karşılık bir cevap yoktur?

- Cahit Arf, ne zaman doğup ne zaman vefat etti?
- Cahit Arf'in matematik konusunda yeteneğini kim keşfetmiştir?
- Cahit Arf'in dünya çapında tanınması neyle olmuştur?
- Cahit Arf, hangi buluşlara imza atmıştır?

Uzmanlar gün içinde özellikle beş farklı vitamin değeri içeren gıdaların tüketilmesini istemiştir.

Alınması gereken vitaminler: “A vitamini, B12 vitamin, C vitamini Folik Asit ve D vitaminidir.”

Aşağıda bu vitaminlerin bulunduğu bazı gıdalar verilmiştir.

A Vitamini	B12 Vitamini	C Vitamini	Folik Asit	D Vitamini
Balkabağı	Balık	Portakal	Mercimek	Peynir
Tatlı patates	Kırmızı et	Mandalina	Yeşil yapraklı sebzeler	Tereyağı
Lahana	Ciğer	Kabak	Narenciye	Mantar
Havuç	İstiridye	Ispanak	Kuşkonmaz	Maydanoz
Ispanak	Süt	Kuşburnu	Barbunya	Yonca



Soru 6:

Yukarıdaki bilgilere bakıldığında bir birey, aşağıdaki seçeneklerde verilen besinlerden hangilerini tüketirse beş vitamin değerinden de almış olur?

A	Lahana-Ciğer-Portakal-Peynir-Yonca
B	Havuç-Süt-Ispanak- Barbunya- Mantar
C	Ispanak-Kırmızı et-Mandalina-Kabak-Narenciye
D	Tatlı patatesi- Balık- Ciğer- Kabak- Tereyağı

Aşağıda, dört koyun türü ve özellikleri verilmiştir.



Akkaraman Koyunu

Vücut Ölçüleri	Erkek	Dişi
Cidago Yüksekliği (cm)	73	65
Vücut Uzunluğu (cm)	72	64
Doğum Ağırlığı (kg)	4.7	4.4
Ergin Canlı Ağırlık (kg)	62	50
Günlük Canlı Ağırlık Artışı (g)	240	



İvesi Koyunu

Vücut Ölçüleri	Erkek	Dişi
Cidago Yüksekliği (cm)	66	65
Vücut Uzunluğu (cm)	62	59
Doğum Ağırlığı (kg)	4.6	4.4
Ergin Canlı Ağırlık (kg)	74	50
Günlük Canlı Ağırlık Artışı (g)	264	



Çine Çaparı Koyunu

Vücut Ölçüleri	Erkek	Dişi
Cidago Yüksekliği (cm)	70	65
Vücut Uzunluğu (cm)	64	62
Doğum Ağırlığı (kg)	4.0	3.5
Ergin Canlı Ağırlık (kg)	55	35
Günlük Canlı Ağırlık Artışı (g)	210	



Karagül Koyunu

Vücut Ölçüleri	Erkek	Dişi
Cidago Yüksekliği (cm)	65	58
Vücut Uzunluğu (cm)	66	58
Doğum Ağırlığı (kg)	3.3	3.1
Ergin Canlı Ağırlık (kg)	58	38
Günlük Canlı Ağırlık Artışı (g)	180	

Soru 7:

Yukarıda dört koyun türü ve özellikleriyle ilgili bilgilere bakarak aşağıdaki değerlendirmelerden hangisi yanlış olmuş olur?

- Çine Çaparı koyununun günlük artışı (gram) İvesi koyunundan azdır.
- Dişi koyunlar içerisinde en küçük olanı Karagül koyunudur.
- Dişi koyunların boyları dördünde de birbirine eşittir.
- Erkek yetişkin koyunlardan canlı ağırlıkları en çok olanla en az olan arasındaki fark 19 kg'dır.

Bir şehir merkezinde bazı kurumlar ve iş yerleri pusulayla şöyle belirtilmiştir:



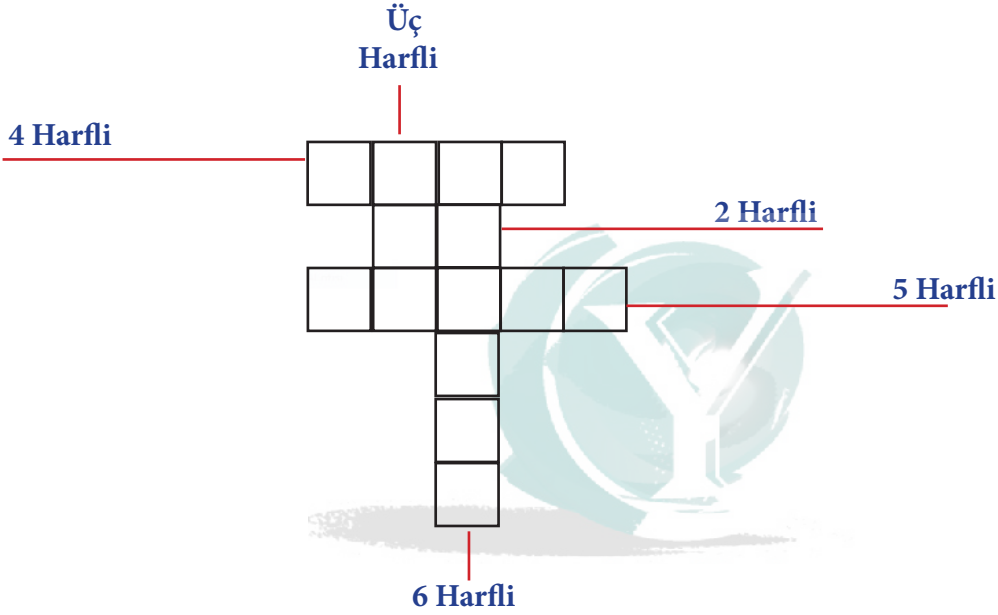
Soru 8:

Yukarıdaki kurum ve iş yerlerinin yönlerinin doğru yazılmış hali aşağıdaki seçeneklerin hangisinde belirtilmiştir?

	Hastane	Polis Merkezi	Tamirci	Manav
A	Kuzeybatı	Kuzeydoğu	Güneybatı	Güneydoğu
B	Güneybatı	Güneydoğu	Kuzeydoğu	Kuzeybatı
C	Kuzeybatı	Kuzeydoğu	Güneydoğu	Güneybatı
D	Kuzeydoğu	Kuzeybatı	Güneydoğu	Güneybatı

Aşağıda üç, dört, beş ve altı harfli kelimeler verilmiştir. Bu kelimelerden uygun olanları aşağıdaki bulmacaya soldan sağa ve yukarıdan aşağıya doğru yerleştirilecektir.

İki Harfli Kelimeler	Un	El	Ek	İl
Üç Harfli Kelimeler	Nem	Ray	Kuş	Yol
Dört Harfli Kelimeler	Arzu	Ekim	Kötü	Nane
Beş Harfli Kelimeler	Casus	Kanat	Felek	Aşama
Altı Harfli Kelimeler	Kabile	Nafile	İmaret	İnanış



Soru 9:

















Yukarıdaki bulmacaya hangi kelimelerin getirilmesi gerekir?

	2 Harfli	3 Harfli	4 Harfli	5 Harfli	6 Harfli
A	Ek	Nem	Kötü	Kanat	İmaret
B	Un	Kuş	Ekim	Aşama	İnanış
C	El	Ray	Nane	Felek	Nafile
D	İl	Yol	Arzu	Casus	Kabile

Dört arkadaş emojiilerin anlamlarını yazarak anlatmıştır.

1. Arkadaşın kullandığı emojiinin anlamı: Emojilerin en mütevazisidir. Biraz utangaç tebessümüyle mahçup bir sevinç hissettirir.
2. Arkadaşın kullandığı emojiinin anlamı: İkiyüzlü, egoyla taşan bir gülümseme. İroni, havalılık ya da oynaşır-lık ifade eder.
3. Arkadaşın kullandığı emojiinin anlamı: Bu inanılmaz, hiç ama hiç bir fikrim yoktu! Geniş açık ağzı ve gözleri olan şaşkın yüzü anlatır.
4. Arkadaşın kullandığı emojiinin anlamı: En yardımsever melek emojiisi. Aşırı ponçık bu emoji anlayışlı ve sevecen bir kimliğe sahiptir.

Soru 10: Aşağıdaki seçeneklerde bulunan emojiilerin hangileri bu arkadaşların anlattıkları emojiilerdir?

	1.Arkadaş	2.Arkadaş	3.Arkadaş	4.Arkadaş
A				
B				
C				
D				

CEVAPLAR:

1-C

2-D

3-D

4-C

5-D

6-B

7-C

8-A

9-B

10-C

